



BIAM Laboratory School
3rd Terminal Examination-2021
Syllabus of 2nd Online Oral Test
Class: Nursery

Subject- English:

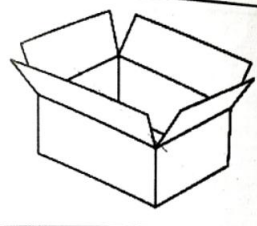
1. Say the words that start with the following letters:

A	Box	Ant	Bun	Ass
D	Ox	Box	Dog	Doll
G	Goat	Cow	Cat	Gun
J	Ink	Jug	Juice	Ice
M	Moon	Mug	Net	Nose
R	Pan	Rat	Rain	Pot
T	Leg	Ice	Tree	Ten
V	Van	Wet	Watch	Vase
Q	Ox	Queen	Quill	Old
Z	Zoo	Wall	Jug	Zip

2: Look at the picture and tell the names:



--	--	--



--	--	--

3. What can you see in the classroom? Tell any 5 names.

Ans: I can see- Book, Board, Duster, Desk, Pencil-eraser.

4. Tell me the Name of 5 rivers, 5 countries and 6 seasons.

5. Rhymes: Early to Rise.

Subject- Bangla:

১। যে যে শব্দ গুলো নিচের বর্ন দিয়ে শুরু হয়েছে তা বল:

ক	বক	কলম	বই	কলস
ঘ	ঘড়ি	ঘোড়া	থলে	থানা
ছ	চাবি	ছাগল	ছড়ি	চাকা
ট	টাকা	ঢাকা	ঢোল	ঢিয়া
ত	হাতি	তাল	তবলা	বীণা
দ	দই	কদম	কই	দোয়েল
ম	যব	মাছি	ময়ূর	আম
ব	কমল	বই	কলা	বক
য	যব	যমুনা	জাহাজ	জাল
শ	সং	শাক	শসা	রং

২। ছড়া : ছোটন ঘুমায় খাটে।

৩।৫টি পশুর নাম, ৫টি দেশের নাম ও ৬ খাতুর নাম বল।

৪।ছবি দেখে সঠিক শব্দটি বল।



--	--	--



--	--	--

Subject- Mathematics:

1.কোন সংখ্যাটি বড়?

৯	১২		২০	১৫		২৫	৩১
৩৭	৪০		৪৬	৫০		৫২	৪৪
৫৮	৬৩		৭২	৬৯		৮০	৮৭
৯০	৮৩		৯২	৯৯		১০০	৯০

2. Table of 3: $3 \times 3 =$

$3 \times 5 =$

$3 \times 2 =$

$3 \times 7 =$

$3 \times 9 =$

$3 \times 4 =$

3. In words: $11 =$

$12 =$

$13 =$

$14 =$

$15 =$

4. যোগ কর :

$7+9=$

$4+4=$

$6+7=$

$9+4=$

$9+2=$

$8+7=$

$7+4=$

$8+6=$

$8+8=$

$6+2=$

5. Subtraction:

$6-2=$

$5-1=$

$8-6=$

$7-2=$

$8-5=$

$7-7=$

$8-7=$

$4-1=$

$9-4=$

$9-3=$